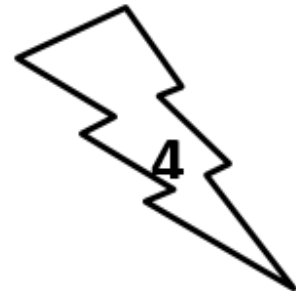





1. Pokoloruj według wskazówek.



2. Policz, ile elementów jest w każdym zbiorze i wpisz obok właściwe cyfry.



3. W każdej figurze wpisz właściwą cyfrę. Zapisz i rozwiąż działania.



$$\triangle + \triangle = \square$$

$$\bigcirc + \triangle = \square$$

$$\square + \square = \square$$

$$\triangle + \square + \bigcirc = \square$$

4. Połącz liczbę z symbolem.

